



Olimpíada GeoBrasil 2018  
IV Olimpíada Brasileira de Geografia  
II Olimpíada Brasileira de Ciências da Terra

# 3<sup>a</sup> FASE

(Online)

CADERNO DE QUESTÕES

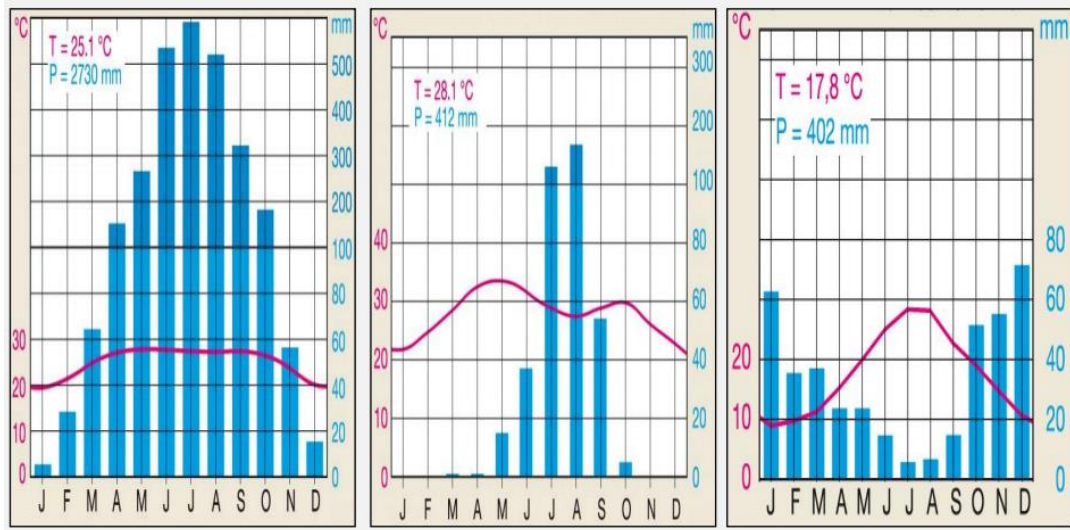
27 e 28 de agosto de 2018

**CADERNO DE QUESTÕES: Páginas 1 a 10**

**GABARITO: Página 11**



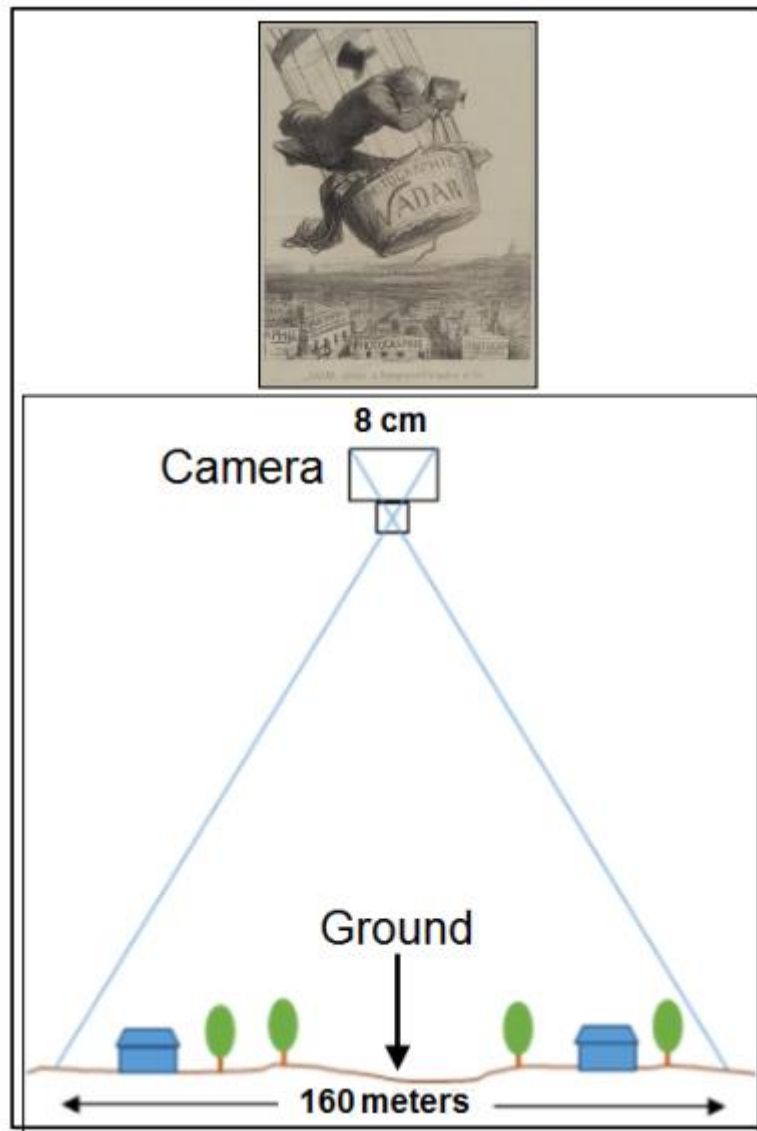
**Questão 1.** Da esquerda para a direita, qual é a sequência correta combinando estes gráficos climáticos com as seguintes cidades: 1: Atenas (Grécia) 2: Chittagong (Bangladesh) 3: Zinder (Níger)?



- A** 1, 2, 3.
- B** 1, 3, 2.
- C** 2, 3, 1.
- D** 3, 2, 1.
- E** 3, 1, 2.




**Questão 2.** As primeiras fotos aéreas foram tiradas por Félix Nadar em 1858 na cidade de Paris. Tirando uma fotografia apontando diretamente em direção ao chão o tamanho do negativo gerado pela câmera é de 8 x 8 cm, capturando um terreno com área de 160 x 160 metros. Qual seria a escala se você ampliasse esse negativo em um papel de 40 x 40 cm?



- A 1:20
- B 1:400
- C 1:2000
- D 1:5000
- E 1:10000



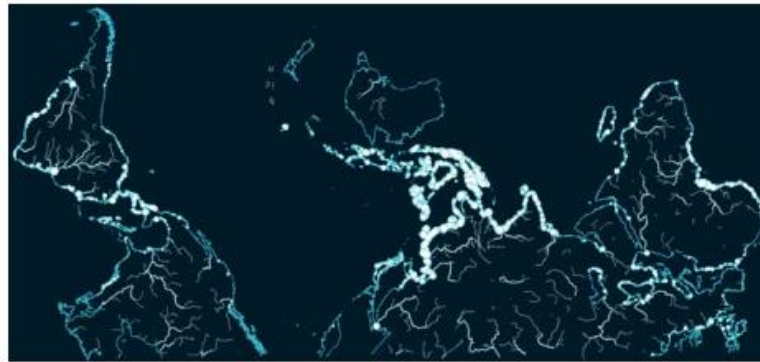
**Questão 3.** Qual fenômeno geográfico é representado na imagem abaixo?



- A** eutrofização das águas costeiras.
- B** os ventos alísios.
- C** corrente do golfo.
- D** um ciclone tropical.
- E** a La Niña.



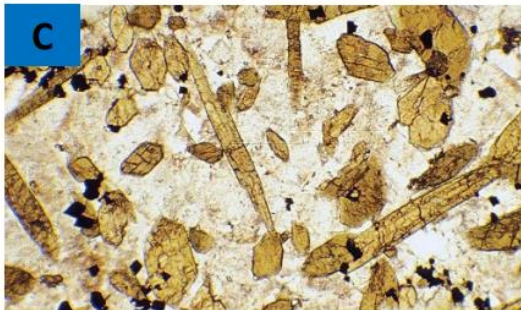

**Questão 4.** O mapa de pontos a seguir se refere a qual ou quais das imagens apresentadas?



- A** Apenas imagens A e B.
- B** Apenas imagens C e D.
- C** Apenas imagem A.
- D** Apenas imagem C.
- E** Apenas imagem D.



**Questão 5.** Abaixo segue relação de imagens de microscópio (lâminas) de 4 tipos diferentes de rochas. Quais destas imagens estão mostrando uma rocha metamórfica?



- A** Apenas imagem A.
- B** Apenas imagens B e C.
- C** Apenas imagem D.
- D** Apenas imagem C.
- E** Apenas imagem A e B.



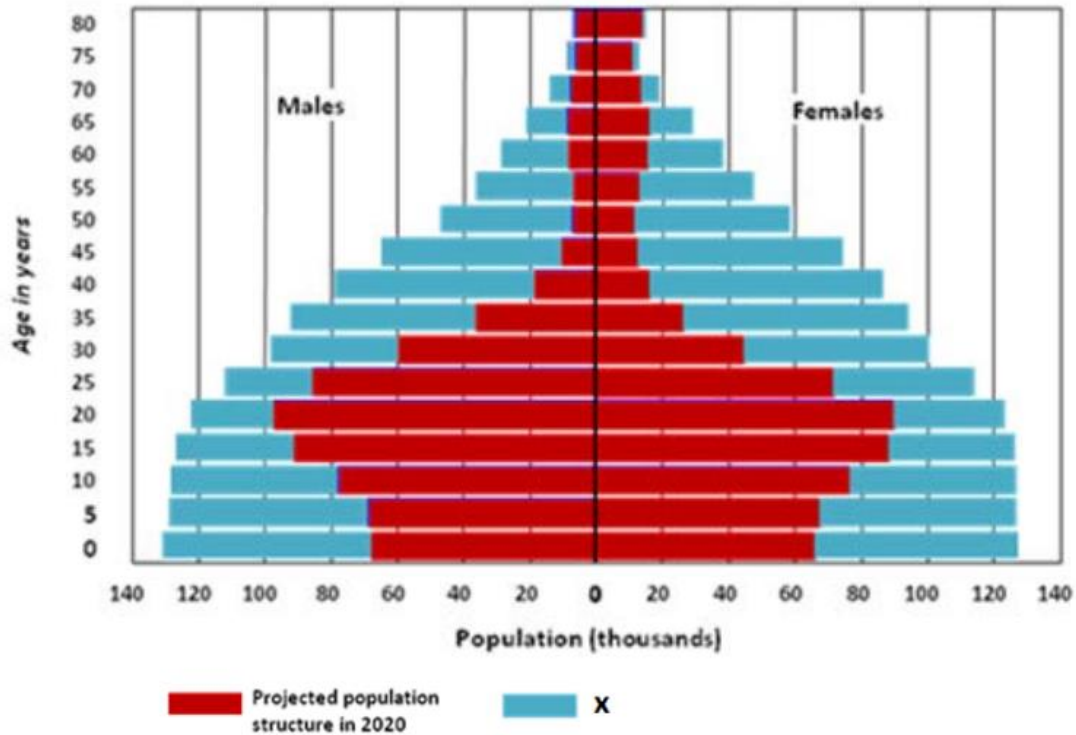
**Questão 6.** Áreas construídas, como a vista na imagem, são tipicamente relacionadas a:



- A** Enclaves étnicos.
- B** Expansão urbana
- C** Centro da cidade.
- D** Zona Rural.
- E** Metropolização.



**Questão 7.** A pirâmide etária abaixo mostra a formação de uma "chaminé" populacional em Botsuana. A partir da análise desse gráfico, assinale o que é representado pela área sombreada em azul (unidade x)?

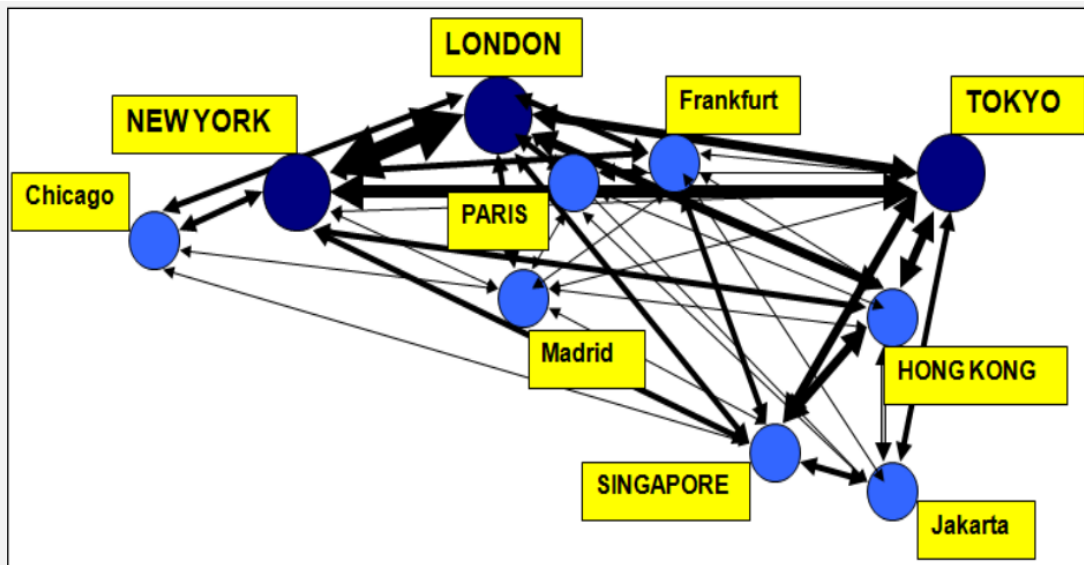


- A Mortes devido a guerra civil.
- B Mortes por migração.
- C Mortes devido a AIDS.
- D Mortes devido à fome.
- E Mortes devido à febre amarela.





**Questão 8.** Qual fluxo econômico o diagrama abaixo representa?



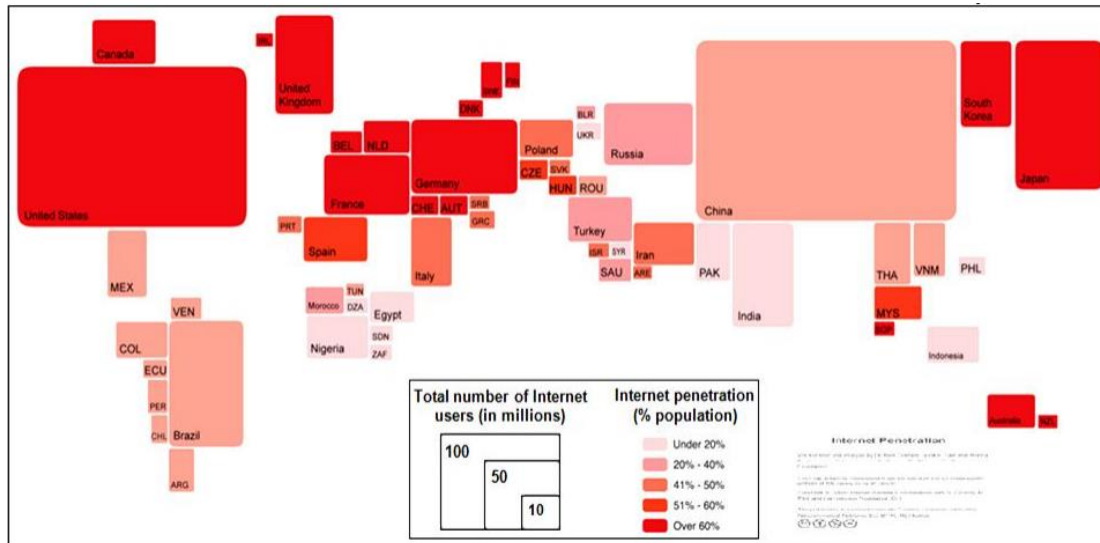
- A** serviços bancários e financeiros.
- B** produtos da indústria da moda.
- C** investimentos em bioindústria.
- D** compra e venda de ouro.
- E** exportação e importação de agrotóxicos.



**IV Olimpiada GeoBrasil – 2018**  
IV OLIMPIADA BRASILEIRA DE GEOGRAFIA  
II OLIMPIADA BRASILEIRA DE CIENCIAS DA TERRA  
**3ª FASE (Online) – CADERNO DE QUESTÕES – 27 e 28 de agosto de 2018**



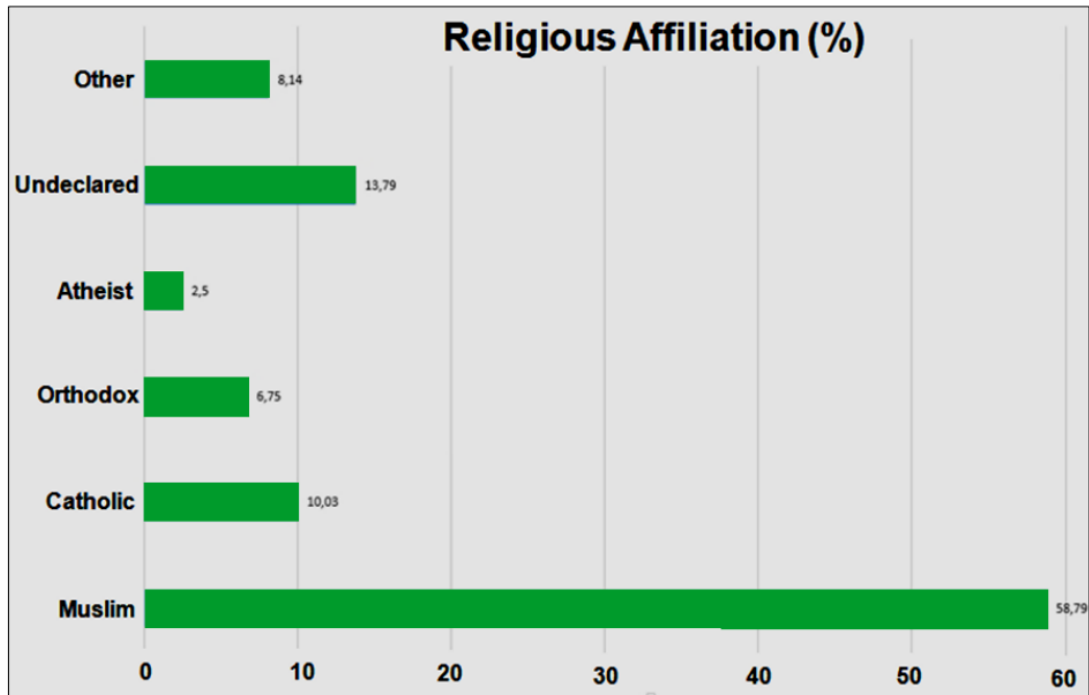
**Questão 9.** A respeito da imagem abaixo, qual das seguintes afirmações está correta?



- A** Chile e Vietnã têm o mesmo número de usuários da Internet.
- B** O número de usuários da Internet na Alemanha é maior que no Canadá.
- C** Usuários de Internet chineses são uma proporção maior de sua população do que os usuários de Internet espanhóis são deles.
- D** O número de usuários da Internet na Índia é menor do que na Itália.
- E** Brasil e Argentina são os maiores usuários de internet da América Latina.



**Questão 10.** A qual país o gráfico abaixo corresponde?



- A Chile.
- B Paquistão.
- C China.
- D Albânia.
- E Geórgia.



**Olimpíada GeoBrasil 2018**  
**IV Olimpíada Brasileira de Geografia**  
**II Olimpíada Brasileira de Ciências da Terra**

**GABARITO - 3ª FASE (on-line)**  
**27 e 28 de Agosto de 2018**

|          |          |          |          |          |          |          |          |          |           |
|----------|----------|----------|----------|----------|----------|----------|----------|----------|-----------|
| <b>1</b> | <b>2</b> | <b>3</b> | <b>4</b> | <b>5</b> | <b>6</b> | <b>7</b> | <b>8</b> | <b>9</b> | <b>10</b> |
| <b>C</b> | <b>B</b> | <b>C</b> | <b>C</b> | <b>A</b> | <b>B</b> | <b>C</b> | <b>A</b> | <b>B</b> | <b>D</b>  |

**V.1 - Publicado em 29/08/2018**